

## กระดาษคำถาม (Questions) ฝึกฝน 20 ข้อ









Username: ระดับ: ชื่อ-สกุล:

คณิตศาสตร์ ป.4 : (ตัวอย่าง) 4.2 การบวกและการลบจำนวนนับที่มากกว่า 100,000

1. คำถาม  $(612,450 + 25,731) - 130,500 = \underline{\hspace{2cm}}$  (ID22824/P4/162741)

- 1.> 507,671
- 2.> 506,681
- 3.> 517,681
- 4.> 507,681

2. คำถาม ขายส้มในวันศุกร์ ได้มากกว่า วันพุธและพฤหัสบดีรวมกัน อยู่เท่าใด (ID26824/P4/202007)

แผนภูมิแสดงจำนวนส้มที่ขายได้ใน 1 สัปดาห์	
อาทิตย์	
จันทร์	
อังคาร	
พุธ	
พฤหัสบดี	
ศุกร์	
เสาร์	
กำหนดให้  แทนจำนวนส้มที่ขายได้ 10 กิโลกรัม	

- 1.> 10 กิโลกรัม
- 2.> 20 กิโลกรัม
- 3.> 30 กิโลกรัม
- 4.> 40 กิโลกรัม

3. คำถาม โรงพยาบาลรกราชภูมิมีจำนวนผู้ป่วยปีนี้มากกว่าปีที่แล้ว 456,350 คน ซึ่งปีนี้มีจำนวนผู้ป่วย 1,045,200 คน ปีที่แล้วมีผู้ป่วยกี่คน (ID21824/P4/132643)

- 1.> 587,850 คน
- 2.> 588,750 คน
- 3.> 588,850 คน
- 4.> 588,860 คน

4. คำถาม ควรเติมจำนวนใดในช่องว่าง  $72,942 + (68,903 + 40,709) = (\dots\dots\dots + 68,903) + 40,709$  จึงเป็นจริง (ID21824/P4/130315)

<p>1.&gt; 40,709</p> <p>2.&gt; 68,903</p> <p>3.&gt; 72,942</p> <p>4.&gt; ไม่เต็ม</p>
<p>5. <u>คำถาม</u> ผลลัพธ์ในข้อใดมีค่าเท่ากับ 8,500 (ID21724/P4/223707)</p> <p>1.&gt; <math>636,320 - (800,000 - 250,473)</math></p> <p>2.&gt; <math>(45,000 + 537,684) + 322,742</math></p> <p>3.&gt; <math>(9,705 - 2,345) + 27,980</math></p> <p>4.&gt; <math>(45,603 - 18,576) - 18,527</math></p>
<p>6. <u>คำถาม</u> จังหวัดแห่งหนึ่งมีงบประมาณในการพัฒนาถนนและแหล่งน้ำเป็นเงิน 10,598,488 บาท แบ่งไปใช้ในการพัฒนาถนน 5,248,460 บาท เงินที่เหลือนำไปพัฒนาแหล่งน้ำ จังหวัดนำเงินไปพัฒนาแหล่งน้ำเท่าใด (ID21824/P4/133104)</p> <p>1.&gt; 5,350,027 บาท</p> <p>2.&gt; 5,350,038 บาท</p> <p>3.&gt; 5,351,028 บาท</p> <p>4.&gt; 5,350,028 บาท</p>
<p>7. <u>คำถาม</u> เป้ามีเงิน 472,350 บาท ซึ่งมากกว่าเงินของเป้าอยู่ 357,962 บาท เป้ามีเงินกี่บาท (ID21824/P4/114843)</p> <p>1.&gt; 113,288</p> <p>2.&gt; 114,388</p> <p>3.&gt; 115,488</p> <p>4.&gt; 116,588</p>
<p>8. <u>คำถาม</u> วดีนำเงิน 10,001 บาท ไปฝากธนาคารทุกเดือน เมื่อเวลาผ่านไป 3 เดือน วดีจะมียอดเงินฝากทั้งหมดกี่บาท (ไม่คิดถึงดอกเบี้ย) (ID22624/P4/134327)</p> <p>1.&gt; 30,000</p> <p>2.&gt; 31,000</p> <p>3.&gt; 30,003</p> <p>4.&gt; 33,003</p>
<p>9. <u>คำถาม</u> จำนวนนับ 1,078,254 มีค่า<u>มากกว่า</u>จำนวนนับ 946,004 อยู่เท่าใด (ID21824/P4/113436)</p> <p>1.&gt; 132,250</p> <p>2.&gt; 123,350</p> <p>3.&gt; 131,150</p> <p>4.&gt; 113,150</p>
<p>10. <u>คำถาม</u> <math>236,540 - (900,000 - 835,476) = \underline{\hspace{2cm}}</math> (ID22824/P4/163051)</p>

<p>1.&gt; 172,006</p> <p>2.&gt; 172,016</p> <p>3.&gt; 172,017</p> <p>4.&gt; 172,116</p>
<p>11. <u>คำถาม</u> <math>5,452,007 - (18,425 + 34,091) = \underline{\hspace{2cm}}</math> (ID22824/P4/143527)</p> <p>1.&gt; 5,389,491</p> <p>2.&gt; 5,399,391</p> <p>3.&gt; 5,399,481</p> <p>4.&gt; 5,399,491</p>
<p>12. <u>คำถาม</u> นักเรียนของโรงเรียนหนึ่งชั้นประถมศึกษาปีที่ 4 มี 435,167 คน ถ้าชั้นประถมศึกษาปีที่ 5 มีมากกว่าชั้นประถมศึกษาปีที่ 4 จำนวน 100,002 คน แล้วนักเรียนชั้นประถมศึกษาปีที่ 5 มีกี่คน (ID22024/P4/141608)</p> <p>1.&gt; 535,169</p> <p>2.&gt; 535,179</p> <p>3.&gt; 535,269</p> <p>4.&gt; 536,169</p>
<p>13. <u>คำถาม</u> เมื่อ 2 ปีที่แล้ว ลุงชมชายขายข้าวได้น้อยกว่าปีนี้ 156,450 ตัน ถ้าปีนี้ขายข้าวได้ 305,992 ตันเมื่อ 2 ปีที่แล้วลุงชมชายขายข้าวได้กี่ตัน (ID22024/P4/140736)</p> <p>1.&gt; 149,532</p> <p>2.&gt; 149,542</p> <p>3.&gt; 149,642</p> <p>4.&gt; 149,742</p>
<p>14. <u>คำถาม</u> <math>(654,322 + 748,591) + 14,279 = \underline{\hspace{2cm}}</math> (ID22824/P4/142957)</p> <p>1.&gt; 1,417,182</p> <p>2.&gt; 1,417,192</p> <p>3.&gt; 1,417,193</p> <p>4.&gt; 1,427,192</p>
<p>15. <u>คำถาม</u> <math>37,508 - (23,500 + 4,605) = \underline{\hspace{2cm}}</math> (ID22824/P4/162402)</p> <p>1.&gt; 9,303</p> <p>2.&gt; 9,403</p> <p>3.&gt; 9,404</p> <p>4.&gt; 9,413</p>
<p>16. <u>คำถาม</u> <math>(1,054,325 + 268,700) - 1,000,000 = \underline{\hspace{2cm}}</math> (ID22824/P4/164427)</p>

- 1.> 323,025
- 2.> 323,035
- 3.> 323,125
- 4.> 324,025

17. คำถาม ยายจันทร์มีรายได้ในแต่ละเดือน ดังนี้ เก็บค่าเช่าหอพัก 134,500 บาท เก็บค่าเช่าที่ดิน 5,980 บาท เก็บค่าซักรีด 10,548 บาท รวมแล้วยายจันทร์มีรายได้เดือนละกี่บาท (ID21824/P4/135051)

- 1.> 151,018 บาท
- 2.> 151,028 บาท
- 3.> 151,128 บาท
- 4.> 152,028 บาท

18. คำถาม ผลลบของ  $809,870 - 2,320 = ?$  เท่ากับข้อใด (ID21724/P4/220019)

- 1.> 78,677
- 2.> 78,777
- 3.> 78,667
- 4.> 78,767

19. คำถาม  $(26,347,118 + 1,000) - 1,235,633 = \underline{\hspace{2cm}}$  (ID22824/P4/161047)

- 1.> 25,112,475
- 2.> 25,112,485
- 3.> 25,112,585
- 4.> 25,122,485

20. คำถาม  $9,145,071 - (645,005 - 111,222) = \underline{\hspace{2cm}}$  (ID22824/P4/143243)

- 1.> 8,611,287
- 2.> 8,611,278
- 3.> 8,611,288
- 4.> 8,621,288

## เฉลยคำตอบ (Answers) ฝึกฝน 20 ข้อ

Username: ระดับ: ชื่อ-สกุล:

คณิตศาสตร์ ป.4 : (ตัวอย่าง) 4.2 การบวกและการลบจำนวนนับที่มากกว่า 100,000

1. คำตอบ 4.>

คำอธิบาย ดูภาพประกอบเฉลย

$$\begin{array}{r} \text{วิธีทำ} \quad 6 \ 1 \ 2, \ 4 \ 5 \ 0 \\ + \\ \quad \quad 2 \ 5, \ 7 \ 3 \ 1 \\ \hline \quad \quad 6 \ 3 \ 8, \ 1 \ 8 \ 1 \end{array}$$

ขั้นตอนที่ 2

$$\begin{array}{r} 6 \ 3 \ 8, \ 1 \ 8 \ 1 \\ - \\ \quad 1 \ 3 \ 0, \ 5 \ 0 \ 0 \\ \hline \quad 5 \ 0 \ 7, \ 6 \ 8 \ 1 \end{array}$$

ตอบ ๕๐๗,๖๘๑

2. คำตอบ 1.>

คำอธิบาย - วันศุกร์ 70 กิโลกรัม

- วันพุธ + วันพฤหัสบดี = 20 + 40 = 60 กิโลกรัม

- ขายส้มในวันศุกร์ ได้มากกว่า อยู่ 70 - 60 = 10 กิโลกรัม

3. คำตอบ 3.>

คำอธิบาย โรงพยาบาลรักษากรุณมีจำนวนผู้ป่วยปีนี้มากกว่าปีที่แล้ว 456,350 คน ซึ่งปีนี้มีจำนวนผู้ป่วย 1,045,200 คน  
ดังนั้นปีที่แล้วมีผู้ป่วย 1,045,200 - 456,350 = 588,850 คน

4. คำตอบ 3.>

คำอธิบาย  $72,942 + (68,903 + 40,709) = ( \dots\dots\dots + 68,903) + 40,709$

ควรเติม 72,942 ในช่องว่าง เป็นไปตามการเปลี่ยนกลุ่มจึงจะเป็นจริง

5. คำตอบ 4.>

คำอธิบาย

6. คำตอบ 4.>

คำอธิบาย จังหวัดแห่งหนึ่งมีงบประมาณในการพัฒนาถนนและแหล่งน้ำเป็นเงิน 10,598,488 บาท

แบ่งไปใช้ในการพัฒนาถนน 5,248,460 บาท

-ดังนั้นจังหวัดนำเงินไปพัฒนาแหล่งน้ำ  $10,598,488 - 5,248,460 = 5,350,028$  บาท

7. คำตอบ 2.>

คำอธิบาย เป่มีเงินมากกว่าเงินของเป้อยู่ 357,962 บาท  
ดังนั้นเป่มีเงิน  $472,350 - 357,962 = 114,388$

8. คำตอบ 3.>

คำอธิบาย เมื่อเวลาผ่านไป 3 เดือน  $10,001 + 10,001 + 10,001 = 30,003$  บาท

9. คำตอบ 1.>

คำอธิบาย จำนวนนับ 1,078,254 มีค่ามากกว่า 946,004  
จะได้ว่า  $1,078,254 - 946,004 = 132,250$

10. คำตอบ 2.>

คำอธิบาย ดูภาพประกอบเฉลย

วิธีทำ  $9\ 0\ 0, 0\ 0\ 0$

-

$8\ 3\ 5, 4\ 7\ 6$

$6\ 4, 5\ 2\ 4$

ขั้นตอนที่ 2

$2\ 3\ 6, 5\ 4\ 0$

-

$6\ 4, 5\ 2\ 4$

$1\ 7\ 2, 0\ 1\ 6$

ตอบ ๑๗๒,๐๑๖

11. คำตอบ 4.>

คำอธิบาย ดูภาพประกอบเฉลย

$$\begin{array}{r} \text{วิธีทำ} \quad 1 \ 8, \ 4 \ 2 \ 5 \\ \phantom{1 \ 8, \ 4 \ 2 \ 5} + \\ \phantom{1 \ 8, \ 4 \ 2 \ 5} \underline{3 \ 4, \ 0 \ 9 \ 1} \\ \phantom{1 \ 8, \ 4 \ 2 \ 5} \underline{5 \ 2, \ 5 \ 1 \ 6} \end{array}$$

ขั้นตอนที่ 2

$$\begin{array}{r} 5, \ 4 \ 5 \ 2, \ 0 \ 0 \ 7 \\ \phantom{5, \ 4 \ 5 \ 2, \ 0 \ 0 \ 7} - \\ \phantom{5, \ 4 \ 5 \ 2, \ 0 \ 0 \ 7} \underline{5 \ 2, \ 5 \ 1 \ 6} \\ \phantom{5, \ 4 \ 5 \ 2, \ 0 \ 0 \ 7} \underline{5, \ 3 \ 9 \ 9, \ 4 \ 9 \ 1} \end{array}$$

ตอบ ๕,๓๙๙,๔๙๑

12. คำตอบ 1.>

คำอธิบาย - ประถมศึกษาปีที่5 มากกว่า ชั้นประถมศึกษาปีที่ 4 อยู่ 100,002 คน

- ถว ป.4 มี 435,167 คน

- ป.5 มีมากกว่า ป.4 อยู่ 100,002 คน นั่นคือ ป.5. = 435,167 + 100,002 = 535,169 คน

- ป.5 (535,169) มากกว่า ป.4 (435,167) อยู่ 100,002

13. คำตอบ 2.>

คำอธิบาย -เมื่อ 2 ปีที่แล้ว ลุงสมชายขายข้าวได้น้อยกว่าปีนี้ 156,450 ตัน ปีนี้ขายข้าวได้ 305,992 ตัน

-ดังนั้น เมื่อ 2 ปีที่แล้วลุงสมชายขายได้ 305,992 - 156,450 = 149,542 ตัน

14. คำตอบ 2.>

คำอธิบาย ดูภาพประกอบเฉลย

$$\begin{array}{r} \text{วิธีทำ} \quad 6 \ 5 \ 4, \ 3 \ 2 \ 2 \\ \phantom{6 \ 5 \ 4, \ 3 \ 2 \ 2} + \\ \phantom{6 \ 5 \ 4, \ 3 \ 2 \ 2} \underline{7 \ 4 \ 8, \ 5 \ 9 \ 1} \\ \phantom{6 \ 5 \ 4, \ 3 \ 2 \ 2} 1, \ 4 \ 0 \ 2, \ 9 \ 1 \ 3 \\ \phantom{6 \ 5 \ 4, \ 3 \ 2 \ 2} + \\ \phantom{6 \ 5 \ 4, \ 3 \ 2 \ 2} \underline{1 \ 4, \ 2 \ 7 \ 9} \\ \phantom{6 \ 5 \ 4, \ 3 \ 2 \ 2} \underline{1, \ 4 \ 1 \ 7, \ 1 \ 9 \ 2} \end{array}$$

ตอบ ๑,๔๑๗,๑๙๒

15. คำตอบ 2.>

คำอธิบาย ดูภาพประกอบเฉลย

วิธีทำ

$$\begin{array}{r} 2\ 3,\ 5\ 0\ 0 \\ + \\ \underline{4,\ 6\ 0\ 5} \\ \underline{2\ 8,\ 1\ 0\ 5} \end{array}$$

ขั้นตอนที่ 2

$$\begin{array}{r} 3\ 7,\ 5\ 0\ 8 \\ - \\ \underline{2\ 8,\ 1\ 0\ 5} \\ \underline{9,\ 4\ 0\ 3} \end{array}$$

ตอบ ๙,๔๐๓

16. คำตอบ 1.>

คำอธิบาย ดูภาพประกอบเฉลย

วิธีทำ

$$\begin{array}{r} 1,\ 0\ 5\ 4,\ 3\ 2\ 5 \\ + \\ \underline{2\ 6\ 8,\ 7\ 0\ 0} \\ \underline{1,\ 3\ 2\ 3,\ 0\ 2\ 5} \end{array}$$

ขั้นตอนที่ 2

$$\begin{array}{r} 1,\ 3\ 2\ 3,\ 0\ 2\ 5 \\ - \\ \underline{1,\ 0\ 0\ 0,\ 0\ 0\ 0} \\ \underline{3\ 2\ 3,\ 0\ 2\ 5} \end{array}$$

ตอบ ๓๒๓,๐๒๕

17. คำตอบ 2.>

คำอธิบาย เก็บค่าเช่าหอพัก 134,500 บาท + เก็บค่าเช่าที่ดิน 5,980 บาท + เก็บค่า ชัก-อบ-รีด 10,548 บาท  
- ดังนั้นรวมแล้วยายจันทรมีรายได้เดือนละ  $134,500 + 5,980 + 10,548 = 151,028$  บาท

18. คำตอบ 3.>

## คำอธิบาย    ดูภาพประกอบเฉลย

วิธีทำ

$$\begin{array}{r} 80,987 \\ - 2,320 \\ \hline 78,667 \end{array}$$

**ତତ୍ତ୍ୱ** ୧୮,୬୬୧

19. คำตอบ 2.>

## คำอธิบาย    รูปภาพประกอบเฉลย

วิธีทำ

$$\begin{array}{r} 26,347,118 \\ + \\ \hline 1,000 \\ \hline 26,348,118 \end{array}$$

-

$$\begin{array}{r} 1,235,633 \\ \hline 25,112,485 \\ \hline \hline \end{array}$$

తలప ౨౬, ౧౧౨, ౪౬౬

20. คำตอบ 3.>

## คำอธิบาย    รูปภาพประกอบเฉลย

วิธีทำ

$$\begin{array}{r} 645,005 \\ - \\ \hline 111,222 \\ \hline 533,783 \end{array}$$

## ขั้นตอนที่ 2

$$\begin{array}{r} 9, 145, 071 \\ - \\ \hline 533, 783 \\ \hline 8, 611, 288 \end{array}$$

**តប** ៨,៦១១,២៨៨